

Name: \_\_\_\_\_

Datum: \_\_\_\_\_

KV 9



**Wir werden Sachaufgabenprofis –**



**Skizzen**

1. Jonas und seine Eltern fahren in den Urlaub auf den Bauernhof. Die Strecke ist insgesamt 160 km lang. Auf der Hälfte der Strecke muss Jonas aufs Klo und sie machen eine Pause.

Nach wie vielen Kilometern macht die Familie Pause?



**Zeichne eine Skizze und beantworte die Frage.**




Antwort: \_\_\_\_\_

2. Auf dem Bauernhof angekommen, darf Jonas dem Bauern gleich dabei helfen, die Kuhweide neu einzuzäunen. Die Weide ist 14 m lang und 8 m breit. An einer Seite lassen sie Platz für ein großes Tor. Es ist 1 m breit.

Wie viel Meter Zaun braucht der Bauer?



**Zeichne eine Skizze und löse dann die Aufgabe.**




Antwort: \_\_\_\_\_

**Wir werden Sachaufgabenprofis –**


**Skizzen**

1. Jonas und seine Eltern fahren in den Urlaub auf den Bauernhof. Die Strecke ist insgesamt 160 km lang. Auf der Hälfte der Strecke machen sie Pause und machen ein Picknick. 50 km später muss Jonas aufs Klo.




Nach wie vielen Kilometern kommt die Familie beim Picknickplatz und beim Klo an?

**Zeichne eine Skizze und beantworte die Frage.**




Antwort: \_\_\_\_\_

2. Auf dem Bauernhof angekommen, darf Jonas dem Bauern gleich dabei helfen, die Pferdekoppel neu einzuzäunen. Die Koppel ist 140 m lang und 80 m breit. Für ein großes Tor sollen 3 m und für eine kleine Tür 2 m frei bleiben.



Wie viel Meter Zaun braucht der Bauer?

**Zeichne eine Skizze und löse dann die Aufgabe.**



Antwort: \_\_\_\_\_